



# أهداف البرنامج

## أهداف عقلية

١

المرونة  
المعرفية

القدرة على  
التفكير

قوة  
الملاحظة

الاسترجاع

الذاكرة

التركيز

تحسن  
الانتباه

ينتج عن الأهداف العقلية

## أهداف أكاديمية

٢

المهارات  
الحسابية

مهارة  
الحفظ  
السريع

تفوق  
دراسي

سرعة  
الأداء

## أهداف نفسية واجتماعية

٣

التفاعل  
الاجتماعي

المبادأة

حب  
المنافسة  
والشجاعة

القيادة

الثقة  
بالنفس

تحسن الجوانب النفسية والاجتماعية لها مردود ايجابي على الأهداف الأخرى

حقوق النشر محفوظة

غير مسموح بالنسخ أو التقليد





### مقدمة

أطفالنا نعمة وهبنا الله إياها، بل هي من أعظم هذه النعم وجعلها زينة الحياة الدنيا، وجعل الله شكر هذه النعم بالمحافظة عليها والاستفادة منها، وحتى ننعم بأطفالنا لابد أن نراهم في أحسن وأفضل مستوى، وهذا هو الهدف الأساسي الذي تسعى إليه **أكاديمية العباقرة الصغار الدولية** من خلال التعاون المشترك مع ولي الأمر وهو العمل سويًا من أجل تحسين وتنمية المهارات العقلية والمهارات الأكاديمية والنفسية والاجتماعية ( **أهداف البرنامج** ) وكل مهارة من هذه المهارات لها أهميتها الخاصة وطرق واستراتيجيات معينة لتنميتها.

تم تطوير وتحديث البرنامج من خلال أكاديمية العباقرة الصغار الدولية بما يتناسب مع الأطفال ومراعاة الفروق الفردية، وذلك من خلال وضع منهجية تناسب رياض الأطفال والفئات الخاصة، ومنهجية أخرى للأطفال الأكبر سنًا، بالإضافة إلى الاعتماد على الفهم وقوة الملاحظة ولا يوجد حفظ مكملات الأرقام أو أصدقاء الرقم لأنه يمثل عقبة للكثير من الأطفال خلال التدريب. من خلال الخبرة التدريسية واجهتنا بعض المشاكل منها عدم قدرة الطفل على استخدام التخيل والحساب الذهني خارج العملية التدريسية، لذلك تم وضع استراتيجية تسهل على الطفل تطبيق الحساب الذهني في أي مكان سواء المنزل أو الماركت أو أي معاملات أخرى. بالإضافة إلى بعض إستراتيجيات تنمية المهارات وعلى المدرب توفير العديد من هذه النماذج والأسئلة بما يتناسب مع مستوى الأطفال.

من أكثر العوامل التي تساهم في تحسن مستوى الطفل هو توفير جو المنافسة المناسب، لذلك يستطيع الطفل - بل يجب على ولي الأمر - المشاركة في **المسابقات المحلية** ( داخل المحافظة ) و**الدولية** سواء حضور أو أونلاين، لأن لها دور كبير جدًا في بناء شخصية الطفل وتحسن مستواه التدريبي، وهذه المسابقات تتم بصفة دورية طوال العام .

تعمل أكاديمية العباقرة الصغار الدولية على توفير أكفأ المدربين في كل المجالات وليس الحساب الذهني فقط، بالإضافة إلى انتشارهم الواسع في كل محافظات مصر والوطن العربي.

رئيس مجلس الإدارة


مروان ابراهيم



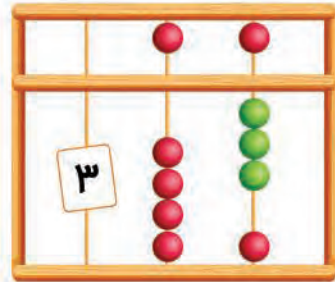
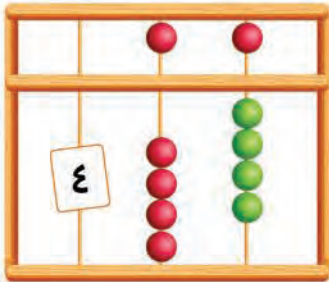
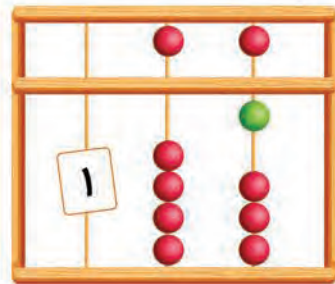
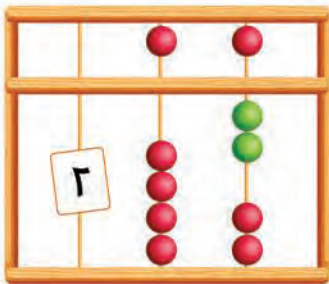


اليوم: ..... التاريخ: ٢٠ / ..... / .....  
عدد المسائل: ..... الوقت: .....

## الآن التعرف على المعداد



## أمثلة على المعداد







## المستوى الأول (Juniors)



٢٠ | ..... | .....

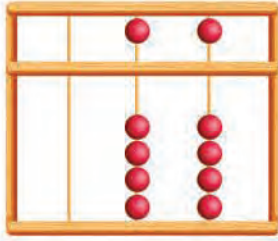
التاريخ:

اليوم:

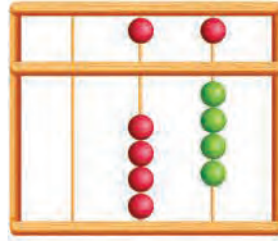
الوقت:

عدد المسائل:

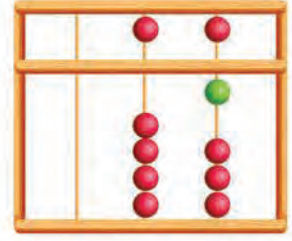
### أكتب قيمة العداد :



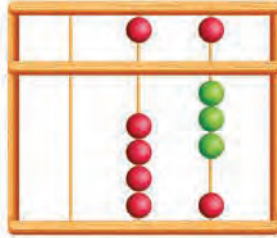
.....



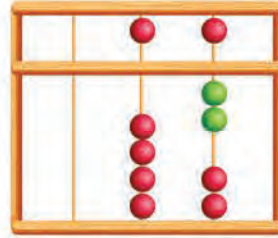
.....



.....




.....



.....


### مثل الرقم على العداد من خلال الرسم :




٦




١



٣



١



٤





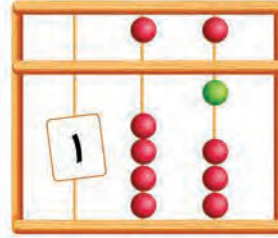


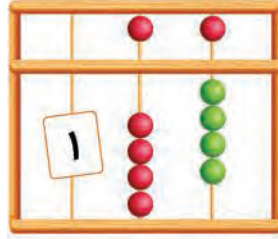

التاريخ: ٢٠ / ..... / .....

اليوم: .....

الوقت: .....

عدد المسائل: .....

## ضع علامة صح أو خطأ ( مع تصحيح الخطأ )



## وصل الرقم بالمعداد المناسب

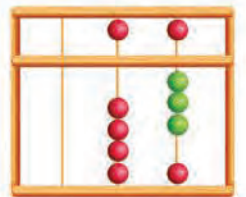
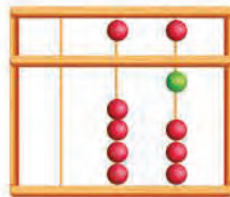
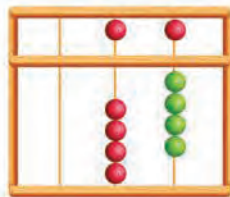
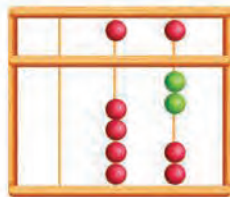
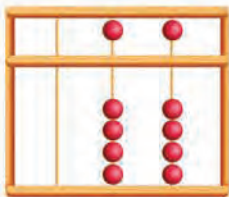
٣

١

٢

٤

♦





## المستوى الأول (Juniors)

٢٠ | ..... | .....

التاريخ:

اليوم:

الوقت:

عدد المسائل:



### هيا يا عبقرى

أوجد ناتج المسائل الآتية على المعداد:

$\begin{array}{r} 3 \\ 1- \\ 2+ \end{array}$ <input type="text"/>	$\begin{array}{r} 4 \\ 1- \\ 1+ \end{array}$ <input type="text"/>	$\begin{array}{r} 4 \\ 2- \\ 2- \end{array}$ <input type="text"/>	$\begin{array}{r} 2 \\ 1+ \\ 1- \end{array}$ <input type="text"/>	$\begin{array}{r} 1 \\ 1+ \\ 2+ \end{array}$ <input type="text"/>	$\begin{array}{r} 3 \\ 1+ \\ 3- \end{array}$ <input type="text"/>
$\begin{array}{r} 4 \\ 2- \\ 1+ \end{array}$ <input type="text"/>	$\begin{array}{r} 2 \\ 1+ \\ 2- \end{array}$ <input type="text"/>	$\begin{array}{r} 3 \\ 1+ \\ 3- \end{array}$ <input type="text"/>	$\begin{array}{r} 4 \\ 3- \\ 1+ \end{array}$ <input type="text"/>	$\begin{array}{r} 4 \\ 2- \\ 1- \end{array}$ <input type="text"/>	$\begin{array}{r} 2 \\ 1- \\ 3+ \end{array}$ <input type="text"/>
$\begin{array}{r} 3 \\ 2- \\ 3+ \end{array}$ <input type="text"/>	$\begin{array}{r} 4 \\ 3- \\ 2+ \end{array}$ <input type="text"/>	$\begin{array}{r} 2 \\ 2+ \\ 3- \end{array}$ <input type="text"/>	$\begin{array}{r} 2 \\ 1+ \\ 1+ \end{array}$ <input type="text"/>	$\begin{array}{r} 1 \\ 1+ \\ 1+ \end{array}$ <input type="text"/>	$\begin{array}{r} 1 \\ 2+ \\ 1+ \end{array}$ <input type="text"/>



لون مرتين:  
مرة كما بالشكل  
ومرة أخرى من  
خيالك





التاريخ: ٢٠ / /

اليوم: .....

الوقت: .....

عدد المسائل: .....

## هيا يا عبقرى

أوجد ناتج المسائل الآتية على المعداد:

$\begin{array}{r} ٤ \\ ٣- \\ ١- \\ \hline \end{array}$	$\begin{array}{r} ٢ \\ ١- \\ ٣+ \\ \hline \end{array}$	$\begin{array}{r} ٣ \\ ١+ \\ ٣- \\ \hline \end{array}$	$\begin{array}{r} ٤ \\ ١- \\ ٣- \\ \hline \end{array}$	$\begin{array}{r} ٣ \\ ١+ \\ ٢- \\ \hline \end{array}$	$\begin{array}{r} ٤ \\ ١- \\ ٢- \\ \hline \end{array}$
$\begin{array}{r} ٤ \\ ١- \\ ١- \\ \hline \end{array}$	$\begin{array}{r} ١ \\ ٣+ \\ ٢- \\ \hline \end{array}$	$\begin{array}{r} ٢ \\ ٢+ \\ ١- \\ \hline \end{array}$	$\begin{array}{r} ١ \\ ٣+ \\ ١- \\ \hline \end{array}$	$\begin{array}{r} ٢ \\ ٢+ \\ ٣- \\ \hline \end{array}$	$\begin{array}{r} ١ \\ ٢+ \\ ١- \\ \hline \end{array}$
$\begin{array}{r} ٢ \\ ١- \\ ٢+ \\ \hline \end{array}$	$\begin{array}{r} ٢ \\ ٢+ \\ ١- \\ \hline \end{array}$	$\begin{array}{r} ١ \\ ٣+ \\ ٤- \\ \hline \end{array}$	$\begin{array}{r} ١ \\ ٣+ \\ ٢- \\ \hline \end{array}$	$\begin{array}{r} ٣ \\ ١- \\ ٢+ \\ \hline \end{array}$	$\begin{array}{r} ٤ \\ ١- \\ ٢- \\ \hline \end{array}$



لون مرتين:  
مرة كما بالشكل  
ومرة أخرى من  
خيالك





## المستوى الأول (Juniors)

اليوم: ..... التاريخ: ٢٠ / ..... / .....

عدد المسائل: ..... الوقت: .....



### هيا يا عبقرى

أوجد ناتج المسائل الآتية على المعداد:

$$\begin{array}{r} 1 \\ 2 \\ 1 \\ 4 \\ \hline \end{array}$$

$$\begin{array}{r} 3 \\ 1 \\ 2 \\ 2 \\ \hline \end{array}$$

$$\begin{array}{r} 4 \\ 2 \\ 1 \\ 2 \\ \hline \end{array}$$

$$\begin{array}{r} 4 \\ 1 \\ 1 \\ 4 \\ \hline \end{array}$$

$$\begin{array}{r} 3 \\ 1 \\ 2 \\ 1 \\ \hline \end{array}$$

$$\begin{array}{r} 4 \\ 2 \\ 1 \\ 1 \\ \hline \end{array}$$

$$\begin{array}{r} 2 \\ 1 \\ 1 \\ 4 \\ \hline \end{array}$$

$$\begin{array}{r} 1 \\ 1 \\ 2 \\ 1 \\ \hline \end{array}$$

$$\begin{array}{r} 4 \\ 2 \\ 1 \\ 1 \\ \hline \end{array}$$

$$\begin{array}{r} 1 \\ 2 \\ 1 \\ 1 \\ \hline \end{array}$$

$$\begin{array}{r} 3 \\ 1 \\ 2 \\ 1 \\ \hline \end{array}$$

$$\begin{array}{r} 4 \\ 1 \\ 4 \\ 1 \\ \hline \end{array}$$

$$\begin{array}{r} 2 \\ 2 \\ 3 \\ 1 \\ \hline \end{array}$$

$$\begin{array}{r} 2 \\ 1 \\ 1 \\ 4 \\ \hline \end{array}$$

$$\begin{array}{r} 4 \\ 2 \\ 1 \\ 1 \\ \hline \end{array}$$

$$\begin{array}{r} 3 \\ 1 \\ 2 \\ 1 \\ \hline \end{array}$$

$$\begin{array}{r} 3 \\ 1 \\ 2 \\ 2 \\ \hline \end{array}$$

$$\begin{array}{r} 4 \\ 1 \\ 3 \\ 2 \\ \hline \end{array}$$

$$\begin{array}{r} 1 \\ 1 \\ 2 \\ 3 \\ \hline \end{array}$$

$$\begin{array}{r} 3 \\ 2 \\ 3 \\ 2 \\ \hline \end{array}$$







التاريخ: ٢٠ / ..... / .....

اليوم: .....

الوقت: .....

عدد المسائل: .....

## هيا يا عبقرى

أوجد ناتج المسائل الآتية على المعداد:

$$\begin{array}{r} 4 \\ 1- \\ 1- \\ 2 \end{array}$$

$$\begin{array}{r} 1 \\ 3 \\ 1- \\ 1- \end{array}$$

$$\begin{array}{r} 1 \\ 1 \\ 2 \\ 4- \end{array}$$

$$\begin{array}{r} 3 \\ 2- \\ 1 \\ 2 \end{array}$$

$$\begin{array}{r} 1 \\ 1 \\ 2- \\ 4 \end{array}$$

$$\begin{array}{r} 1 \\ 3 \\ 2- \\ 1- \end{array}$$

$$\begin{array}{r} 1 \\ 1 \\ 2- \\ 3 \end{array}$$

$$\begin{array}{r} 4 \\ 2- \\ 2- \\ 2 \end{array}$$

$$\begin{array}{r} 1 \\ 3 \\ 2- \\ 1 \end{array}$$

$$\begin{array}{r} 4 \\ 1- \\ 2- \\ 2 \end{array}$$

$$\begin{array}{r} 4 \\ 1- \\ 2- \\ 3 \end{array}$$

$$\begin{array}{r} 4 \\ 1- \\ 1- \\ 1- \end{array}$$

$$\begin{array}{r} 1 \\ 1 \\ 1 \\ 2- \end{array}$$

$$\begin{array}{r} 3 \\ 2- \\ 1 \\ 2- \end{array}$$

$$\begin{array}{r} 2 \\ 2 \\ 1- \\ 1- \end{array}$$

$$\begin{array}{r} 3 \\ 1 \\ 2- \\ 1- \end{array}$$

$$\begin{array}{r} 3 \\ 2- \\ 1 \\ 2 \end{array}$$

$$\begin{array}{r} 1 \\ 1 \\ 2 \\ 3- \end{array}$$

$$\begin{array}{r} 4 \\ 1- \\ 2- \\ 3 \end{array}$$

$$\begin{array}{r} 2 \\ 2 \\ 1- \\ 2- \end{array}$$





## المستوى الأول (Juniors)

٢٠ | ..... | .....

التاريخ:

اليوم:

الوقت:

عدد المسائل:



### هيا يا عبقرى

أوجد ناتج المسائل الآتية على المعداد:

$$\begin{array}{r} ٤ \\ ١- \\ ١- \\ ٢ \end{array}$$

$$\begin{array}{r} ٤ \\ ٣- \\ ١ \\ ١ \end{array}$$

$$\begin{array}{r} ٤ \\ ٢- \\ ١ \\ ٣- \end{array}$$

$$\begin{array}{r} ٣ \\ ١ \\ ٢- \\ ١- \end{array}$$

$$\begin{array}{r} ٣ \\ ٢- \\ ٤ \\ ٢- \end{array}$$

$$\begin{array}{r} ١ \\ ٢ \\ ١ \\ ٣- \end{array}$$

$$\begin{array}{r} ٤ \\ ٣- \\ ٢ \\ ٢- \end{array}$$

$$\begin{array}{r} ١ \\ ٣ \\ ٢- \\ ١- \end{array}$$

$$\begin{array}{r} ٢ \\ ١- \\ ٤ \\ ٢- \end{array}$$

$$\begin{array}{r} ١ \\ ١ \\ ٢ \\ ٣- \end{array}$$

$$\begin{array}{r} ٢ \\ ١ \\ ٣- \\ ٤ \end{array}$$

$$\begin{array}{r} ١ \\ ٢ \\ ١ \\ ٢- \end{array}$$

$$\begin{array}{r} ٣ \\ ١- \\ ٢ \\ ٣- \end{array}$$

$$\begin{array}{r} ٣ \\ ١- \\ ٢ \\ ١- \end{array}$$

$$\begin{array}{r} ٢ \\ ٢ \\ ٤- \\ ١ \end{array}$$

$$\begin{array}{r} ١ \\ ٢ \\ ٣- \\ ٤ \end{array}$$

$$\begin{array}{r} ٢ \\ ٢ \\ ١- \\ ١- \end{array}$$

$$\begin{array}{r} ٣ \\ ٣- \\ ٤ \\ ٢- \end{array}$$

$$\begin{array}{r} ٢ \\ ١- \\ ٣ \\ ٤- \end{array}$$

$$\begin{array}{r} ٢ \\ ١ \\ ١ \\ ٣- \end{array}$$





التاريخ: ٢٠ / ..... / .....

اليوم: .....

الوقت: .....

عدد المسائل: .....

## هيا يا عبقرى

أوجد ناتج المسائل الآتية على المعداد:

$$\begin{array}{r} ٤ \\ ٣- \\ ٢ \\ ١- \\ \hline \end{array}$$

$$\begin{array}{r} ٢ \\ ٢ \\ ١- \\ ٢- \\ \hline \end{array}$$

$$\begin{array}{r} ١ \\ ٢ \\ ١ \\ ٣- \\ \hline \end{array}$$

$$\begin{array}{r} ٣ \\ ١ \\ ٣- \\ ٢ \\ \hline \end{array}$$

$$\begin{array}{r} ٤ \\ ٣- \\ ١ \\ ٢- \\ \hline \end{array}$$

$$\begin{array}{r} ١ \\ ١ \\ ١ \\ ٢- \\ \hline \end{array}$$

$$\begin{array}{r} ٤ \\ ٣- \\ ٢ \\ ٣- \\ \hline \end{array}$$

$$\begin{array}{r} ٣ \\ ١ \\ ٢- \\ ١- \\ \hline \end{array}$$

$$\begin{array}{r} ٤ \\ ١- \\ ٢- \\ ٣ \\ \hline \end{array}$$

$$\begin{array}{r} ٢ \\ ١ \\ ٣- \\ ٤ \\ \hline \end{array}$$

$$\begin{array}{r} ١ \\ ٢ \\ ١ \\ ٣- \\ \hline \end{array}$$

$$\begin{array}{r} ٤ \\ ٢- \\ ٢- \\ ٣ \\ \hline \end{array}$$

$$\begin{array}{r} ٣ \\ ٢- \\ ١ \\ ٢- \\ \hline \end{array}$$

$$\begin{array}{r} ٣ \\ ١- \\ ٢ \\ ١- \\ \hline \end{array}$$

$$\begin{array}{r} ١ \\ ١ \\ ٢ \\ ٣- \\ \hline \end{array}$$

$$\begin{array}{r} ٣ \\ ١ \\ ٢- \\ ١ \\ \hline \end{array}$$

$$\begin{array}{r} ٢ \\ ٢ \\ ٣- \\ ٢ \\ \hline \end{array}$$

$$\begin{array}{r} ٣ \\ ١ \\ ٢- \\ ١- \\ \hline \end{array}$$

$$\begin{array}{r} ٢ \\ ١ \\ ١ \\ ٣- \\ \hline \end{array}$$

$$\begin{array}{r} ٤ \\ ١- \\ ١ \\ ١- \\ \hline \end{array}$$



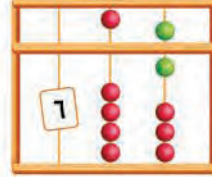
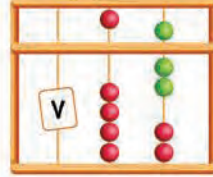


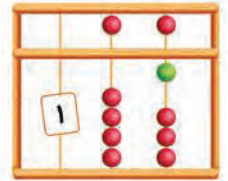
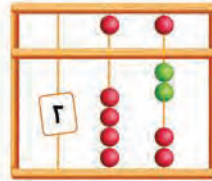
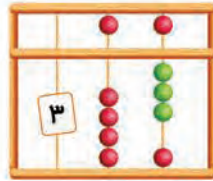
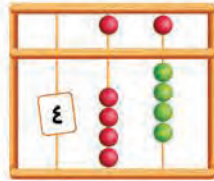
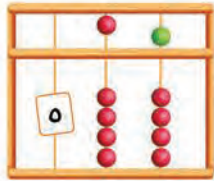
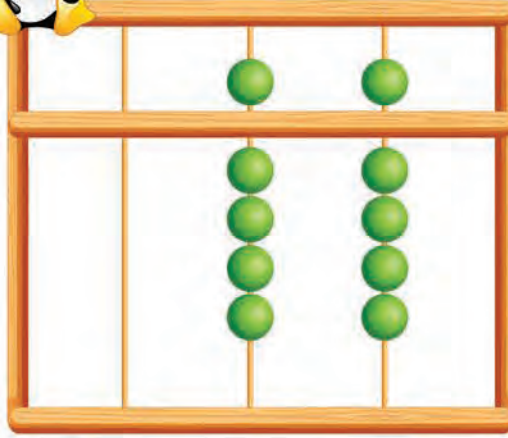


# المستوى الأول (Juniors)

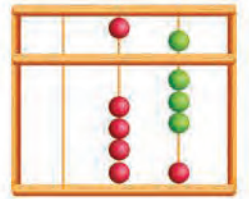
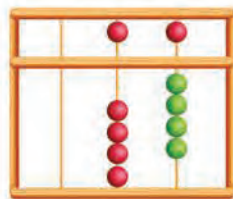
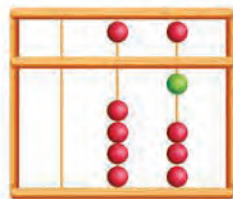
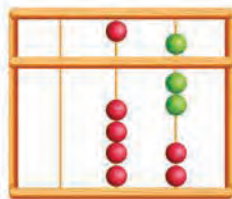
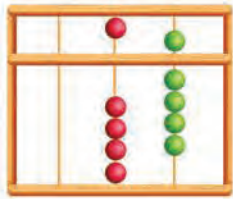


اليوم: ..... التاريخ: ٢٠ / ..... / .....

عدد المسائل: ..... الوقت: .....



## أكتب قيمة العداد :



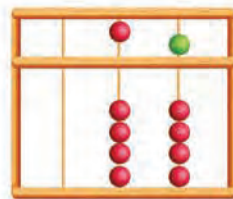
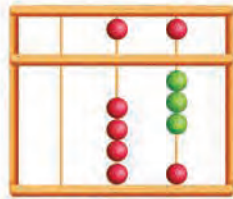
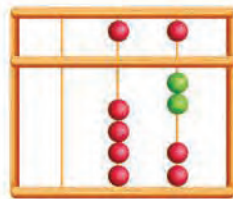
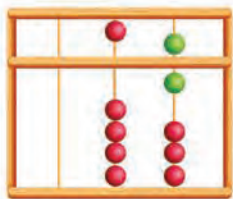
.....

.....

.....

.....

.....



.....

.....

.....

.....







التاريخ: ٢٠ / ..... / .....

اليوم: .....


الوقت: .....

عدد المسائل: .....


## مثل الرقم على المعداد من خلال الرسم :




٧



٥




١




٩




٢




٤



٨

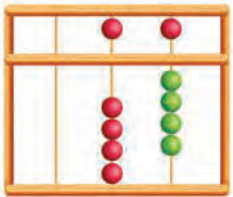


٣

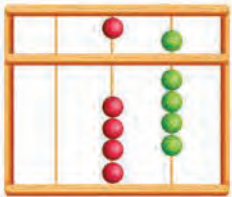


٦

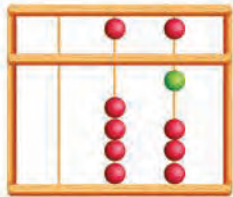
## وصل الرقم بالمعداد المناسب



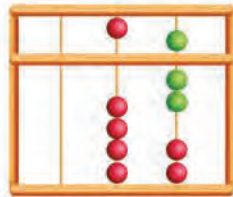
٩



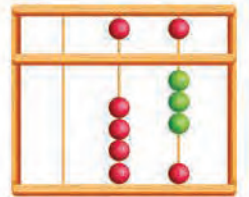
٨



٧



٦



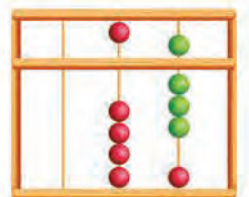
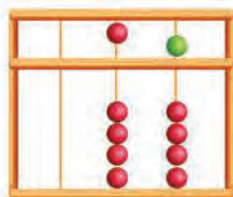
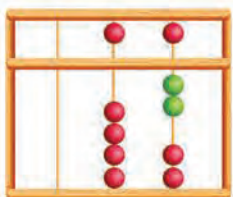
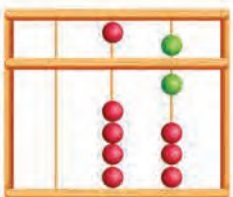
٥

٤

٣

٢

١





## المستوى الأول (Juniors)

٢٠ | ..... | .....

التاريخ:

اليوم:

الوقت:

عدد المسائل:




### هيا يا عبقرى

أوجد ناتج المسائل الآتية على المعداد:

٥ ١ ١ <input type="text"/>	٥ ٣ ١ <input type="text"/>	٥ ٢ ٢ <input type="text"/>	٥ ١ ٢ <input type="text"/>	٢ ١ ١ <input type="text"/>	٢ ٢ ٥ <input type="text"/>	٢ ١ ٥ <input type="text"/>	٣ ١ ٥ <input type="text"/>	١ ٥ ١ <input type="text"/>	٢ ٥ ٢ <input type="text"/>
١ ٥ ٣ <input type="text"/>	٥ ٢ ١ <input type="text"/>	٥ ١ ٣ <input type="text"/>	٢ ١ ١ <input type="text"/>	١ ١ ٥ <input type="text"/>	١ ١ ٢ <input type="text"/>	٣ ٥ ١ <input type="text"/>	٢ ٥ ١ <input type="text"/>	٣ ١ ١ <input type="text"/>	١ ٥ ٢ <input type="text"/>

### وقت التلوين





التاريخ: ٢٠ / ..... / .....

اليوم: .....

الوقت: .....

عدد المسائل: .....

## هيا يا عبقرى

أوجد ناتج المسائل الآتية على المعداد:

٤ ٥ ٤- <input type="text"/>	٥ ٢ ١- <input type="text"/>	٩ ٢- ٢- <input type="text"/>	٣ ١- ٥ <input type="text"/>	٥ ٤ ٣- <input type="text"/>	٤ ٢- ٥ <input type="text"/>	٩ ٢- ١- <input type="text"/>	٤ ٥ ٢- <input type="text"/>	٣ ٢- ٥ <input type="text"/>	١ ٢ ٥ <input type="text"/>
٣ ٥ ١- <input type="text"/>	٣ ٥ ٣- <input type="text"/>	٥ ٤ ١- <input type="text"/>	٩ ٥- ١- <input type="text"/>	٣ ٢- ١ <input type="text"/>	٥ ٤ ٩- <input type="text"/>	٣ ٥ ٢- <input type="text"/>	٩ ٥- ١- <input type="text"/>	٩ ٥- ٤- <input type="text"/>	٣ ٥ ١ <input type="text"/>

## وقت التلوين





## المستوى الأول (Juniors)

اليوم: ..... التاريخ: ٢٠ / ..... / .....

عدد المسائل: ..... الوقت: .....



### هيا يا عبقرى

أوجد ناتج المسائل الآتية على المعداد:

$$\begin{array}{r} 5 \\ 1 \\ 5- \\ 2 \end{array}$$

$$\begin{array}{r} 5 \\ 3 \\ 2- \\ 1 \end{array}$$

$$\begin{array}{r} 1 \\ 5 \\ 1 \\ 2- \end{array}$$

$$\begin{array}{r} 5 \\ 2 \\ 2 \\ 5- \end{array}$$

$$\begin{array}{r} 4 \\ 1 \\ 5 \\ 3- \end{array}$$

$$\begin{array}{r} 1 \\ 5 \\ 1 \\ 2 \end{array}$$

$$\begin{array}{r} 2 \\ 5 \\ 2 \\ 1- \end{array}$$

$$\begin{array}{r} 5 \\ 3 \\ 1 \\ 4- \end{array}$$

$$\begin{array}{r} 2 \\ 2 \\ 5 \\ 1- \end{array}$$

$$\begin{array}{r} 2 \\ 1 \\ 1 \\ 5 \end{array}$$

$$\begin{array}{r} 9 \\ 2- \\ 1- \\ 5- \end{array}$$

$$\begin{array}{r} 5 \\ 1 \\ 2 \\ 3- \end{array}$$

$$\begin{array}{r} 2 \\ 5 \\ 2- \\ 4 \end{array}$$

$$\begin{array}{r} 2 \\ 5 \\ 2 \\ 4- \end{array}$$

$$\begin{array}{r} 4 \\ 1 \\ 5 \\ 2- \end{array}$$

$$\begin{array}{r} 9 \\ 3- \\ 5- \\ 2 \end{array}$$

$$\begin{array}{r} 5 \\ 1 \\ 1 \\ 1 \end{array}$$

$$\begin{array}{r} 4 \\ 5 \\ 3- \\ 5- \end{array}$$

$$\begin{array}{r} 5 \\ 4 \\ 2- \\ 1- \end{array}$$

$$\begin{array}{r} 4 \\ 5 \\ 1- \\ 2- \end{array}$$







التاريخ: ٢٠ / ..... / .....

اليوم: .....

الوقت: .....

عدد المسائل: .....

## هيا يا عبقرى

أوجد ناتج المسائل الآتية على المعداد:

$$\begin{array}{r} 5 \\ 4 \\ 2- \\ 2- \\ \hline \end{array}$$

$$\begin{array}{r} 1 \\ 5 \\ 1 \\ 2 \\ \hline \end{array}$$

$$\begin{array}{r} 9 \\ 9- \\ 2 \\ 5 \\ \hline \end{array}$$

$$\begin{array}{r} 3 \\ 5 \\ 1 \\ 5- \\ \hline \end{array}$$

$$\begin{array}{r} 2 \\ 5 \\ 2 \\ 9- \\ \hline \end{array}$$

$$\begin{array}{r} 5 \\ 4 \\ 9- \\ 2 \\ \hline \end{array}$$

$$\begin{array}{r} 3 \\ 5 \\ 1 \\ 2- \\ \hline \end{array}$$

$$\begin{array}{r} 1 \\ 5 \\ 2 \\ 1 \\ \hline \end{array}$$

$$\begin{array}{r} 2 \\ 5 \\ 1- \\ 1- \\ \hline \end{array}$$

$$\begin{array}{r} 3 \\ 2- \\ 1 \\ 5 \\ \hline \end{array}$$

$$\begin{array}{r} 2 \\ 1- \\ 5 \\ 1 \\ \hline \end{array}$$

$$\begin{array}{r} 3 \\ 5 \\ 1 \\ 5- \\ \hline \end{array}$$

$$\begin{array}{r} 9 \\ 2- \\ 5- \\ 1 \\ \hline \end{array}$$

$$\begin{array}{r} 5 \\ 5- \\ 4 \\ 5 \\ \hline \end{array}$$

$$\begin{array}{r} 3 \\ 1 \\ 2- \\ 5 \\ \hline \end{array}$$

$$\begin{array}{r} 9 \\ 1- \\ 5- \\ 1- \\ \hline \end{array}$$

$$\begin{array}{r} 5 \\ 3 \\ 1- \\ 1- \\ \hline \end{array}$$

$$\begin{array}{r} 9 \\ 5- \\ 4- \\ 4 \\ \hline \end{array}$$

$$\begin{array}{r} 5 \\ 4 \\ 9- \\ 2 \\ \hline \end{array}$$

$$\begin{array}{r} 9 \\ 3- \\ 5- \\ 2 \\ \hline \end{array}$$





## المستوى الأول (Juniors)

اليوم: ..... التاريخ: ٢٠ / ..... / .....

عدد المسائل: ..... الوقت: .....



### هيا يا عبقرى

أوجد ناتج المسائل الآتية على المعداد:

$$\begin{array}{r} ٦ \\ ٣ \\ ٢- \\ ٢- \\ \hline \end{array}$$

$$\begin{array}{r} ٣ \\ ٥ \\ ١- \\ ٢- \\ \hline \end{array}$$

$$\begin{array}{r} ٩ \\ ٥- \\ ٢- \\ ٧ \\ \hline \end{array}$$

$$\begin{array}{r} ٢ \\ ٥ \\ ٢- \\ ٤ \\ \hline \end{array}$$

$$\begin{array}{r} ٥ \\ ٤ \\ ٢- \\ ٧- \\ \hline \end{array}$$

$$\begin{array}{r} ٤ \\ ٢- \\ ٢- \\ ٥ \\ \hline \end{array}$$

$$\begin{array}{r} ٨ \\ ٥- \\ ١ \\ ٥ \\ \hline \end{array}$$

$$\begin{array}{r} ٦ \\ ١ \\ ٢- \\ ٣ \\ \hline \end{array}$$

$$\begin{array}{r} ٤ \\ ٥ \\ ٩- \\ ٣ \\ \hline \end{array}$$

$$\begin{array}{r} ٩ \\ ٤- \\ ٥- \\ ٧ \\ \hline \end{array}$$

$$\begin{array}{r} ٣ \\ ٥ \\ ١ \\ ٦- \\ \hline \end{array}$$

$$\begin{array}{r} ٢ \\ ٥ \\ ١- \\ ٣ \\ \hline \end{array}$$

$$\begin{array}{r} ٤ \\ ٥ \\ ٩- \\ ٢ \\ \hline \end{array}$$

$$\begin{array}{r} ٥ \\ ١ \\ ٥- \\ ٣ \\ \hline \end{array}$$

$$\begin{array}{r} ٩ \\ ٣- \\ ٥- \\ ٢ \\ \hline \end{array}$$

$$\begin{array}{r} ٥ \\ ٢ \\ ٧- \\ ٤ \\ \hline \end{array}$$

$$\begin{array}{r} ٩ \\ ١- \\ ٥- \\ ٦ \\ \hline \end{array}$$

$$\begin{array}{r} ٨ \\ ٣- \\ ٤ \\ ٢- \\ \hline \end{array}$$

$$\begin{array}{r} ٢ \\ ٥ \\ ١- \\ ٣ \\ \hline \end{array}$$

$$\begin{array}{r} ٩ \\ ١- \\ ١- \\ ١- \\ \hline \end{array}$$





التاريخ: ٢٠ / ..... / .....

اليوم: .....

الوقت: .....

عدد المسائل: .....

## هيا يا عبقرى

أوجد ناتج المسائل الآتية على المعداد:

$$\begin{array}{r} 5 \\ 1 \\ 2 \\ 4- \\ \hline \end{array}$$

$$\begin{array}{r} 2 \\ 7 \\ 4- \\ 5- \\ \hline \end{array}$$

$$\begin{array}{r} 9 \\ 2- \\ 1- \\ 5- \\ \hline \end{array}$$

$$\begin{array}{r} 9 \\ 9- \\ 2 \\ 5 \\ \hline \end{array}$$

$$\begin{array}{r} 1 \\ 1 \\ 2- \\ 9 \\ \hline \end{array}$$

$$\begin{array}{r} 3 \\ 1 \\ 2- \\ 5 \\ \hline \end{array}$$

$$\begin{array}{r} 1 \\ 5 \\ 1 \\ 7- \\ \hline \end{array}$$

$$\begin{array}{r} 5 \\ 2 \\ 1- \\ 3 \\ \hline \end{array}$$

$$\begin{array}{r} 6 \\ 1- \\ 4 \\ 3- \\ \hline \end{array}$$

$$\begin{array}{r} 5 \\ 3 \\ 1- \\ 2- \\ \hline \end{array}$$

$$\begin{array}{r} 2 \\ 5 \\ 2 \\ 5- \\ \hline \end{array}$$

$$\begin{array}{r} 7 \\ 2- \\ 4 \\ 5- \\ \hline \end{array}$$

$$\begin{array}{r} 2 \\ 1 \\ 1 \\ 5 \\ \hline \end{array}$$

$$\begin{array}{r} 3 \\ 5 \\ 1 \\ 8- \\ \hline \end{array}$$

$$\begin{array}{r} 8 \\ 3- \\ 5- \\ 2 \\ \hline \end{array}$$

$$\begin{array}{r} 1 \\ 3 \\ 1- \\ 5 \\ \hline \end{array}$$

$$\begin{array}{r} 2 \\ 2 \\ 5 \\ 4- \\ \hline \end{array}$$

$$\begin{array}{r} 3 \\ 1 \\ 5 \\ 6- \\ \hline \end{array}$$

$$\begin{array}{r} 1 \\ 2 \\ 1 \\ 5 \\ \hline \end{array}$$

$$\begin{array}{r} 2 \\ 2 \\ 5 \\ 1- \\ \hline \end{array}$$





# المستوى الأول (Juniors)



٢٠ | ..... | .....

التاريخ:

اليوم:

الوقت:

عدد المسائل:

## هيا يا عبقرى

أوجد ناتج المسائل الآتية على المعداد:

١ ٥ ١ ١ <input type="text"/>	٤ ١- ١- ٥ <input type="text"/>	٩ ٢- ١- ١- <input type="text"/>	٢ ١ ٣- ٥ <input type="text"/>	١ ٥ ٢ ١ <input type="text"/>	٣ ١ ٢- ٥ <input type="text"/>
٣ ١ ٢- ٥ <input type="text"/>	٥ ٤ ١- ١- <input type="text"/>	٥ ٢ ١- ١- <input type="text"/>	٦ ١ ١ ١ <input type="text"/>	٨ ٣- ٤ ١- <input type="text"/>	٩ ١- ١- ٥- <input type="text"/>
٢ ٢ ١- ١- <input type="text"/>	٧ ١- ١- ٤ <input type="text"/>	٥ ١ ١- ٢ <input type="text"/>	٣ ١ ٢- ٢- <input type="text"/>	٤ ١- ١- ٢ <input type="text"/>	٣ ٥ ١ ٢- <input type="text"/>
٤ ١- ١- ٥ <input type="text"/>	١ ١ ٢ ٣- <input type="text"/>	٣ ١- ١- ٣ <input type="text"/>	٩ ٢- ١- ١- <input type="text"/>	٤ ٥ ٢- ٥- <input type="text"/>	١ ٥ ١ ٢ <input type="text"/>







التاريخ: ٢٠ / ..... / .....

اليوم: .....

الوقت: .....

عدد المسائل: .....

## هيا يا عبقرى

أوجد ناتج المسائل الآتية على المعداد:

١ ٥ ٣ ٤-	٢ ١ ٥ ١	١ ١ ٥ ١	٩ ٢- ٢- ٤	٣ ١ ٥ ٢-	٥ ٢ ٢ ٤-
٣ ١ ٥ ٢-	١ ٥ ١ ٢-	٢ ١- ١- ٢	٣ ٥ ١- ١-	١ ١ ٥ ٢-	٥ ٢ ١- ٢
٤ ٥ ١- ١-	٩ ٤- ٢ ١-	٤ ٥ ١- ١-	٥ ١ ١ ٧-	٢ ١ ٢- ١	٣ ٥ ١- ٢-
٩ ١- ٣- ٤	٦ ٣ ٤- ١	٥ ٤ ١- ٣-	٤ ٢- ٢- ١	٣ ١ ٤- ٢	٢ ٥ ١ ١





# المستوى الأول (Juniors)



٢٠ | ..... | .....

التاريخ:

اليوم:

الوقت:

عدد المسائل:

## هيا يا عبقرى

أوجد ناتج المسائل الآتية على المعداد:

١ ١ ٢ ٤-	٤ ٣- ١ ٥	٣ ١- ٢ ٤-	٢ ١ ١ ٥	٩ ٤- ٢ ٥-	٤ ٥ ٢- ٢-
٣ ١- ٢ ١-	٣ ١ ٥ ٢-	١ ٥ ١ ٢	٧ ٢- ١ ٥-	٣ ١- ٥ ١-	٤ ٢- ١- ٥
٣ ٢- ٣ ٥	٧ ١- ١- ٤	٤ ٥ ٩- ٣	١ ٥ ٦- ٢	٩ ٣- ٢ ٣-	٣ ٣- ٤ ٢-
٥ ٤ ٢- ١	٩ ١- ٣- ٤	٢ ٥ ٢- ٤	٤ ٣- ١ ١	١ ٥ ٣ ١-	٦ ١ ٢ ٢-





التاريخ: ٢٠ / ..... / .....

اليوم: .....

الوقت: .....

عدد المسائل: .....

## هيا يا عبقرى

أوجد ناتج المسائل الآتية على المعداد:

$\begin{array}{r} 4 \\ 1- \\ 1- \\ 5 \end{array}$ <input type="text"/>	$\begin{array}{r} 1 \\ 5 \\ 1 \\ 2- \end{array}$ <input type="text"/>	$\begin{array}{r} 4 \\ 1- \\ 2- \\ 1 \end{array}$ <input type="text"/>	$\begin{array}{r} 2 \\ 5 \\ 2 \\ 5- \end{array}$ <input type="text"/>	$\begin{array}{r} 4 \\ 1- \\ 1- \\ 1- \end{array}$ <input type="text"/>	$\begin{array}{r} 9 \\ 5- \\ 3- \\ 1 \end{array}$ <input type="text"/>
$\begin{array}{r} 3 \\ 1 \\ 2- \\ 5 \end{array}$ <input type="text"/>	$\begin{array}{r} 9 \\ 1- \\ 5- \\ 1- \end{array}$ <input type="text"/>	$\begin{array}{r} 4 \\ 2- \\ 5 \\ 2- \end{array}$ <input type="text"/>	$\begin{array}{r} 4 \\ 5 \\ 1- \\ 1- \end{array}$ <input type="text"/>	$\begin{array}{r} 5 \\ 2 \\ 1- \\ 1- \end{array}$ <input type="text"/>	$\begin{array}{r} 3 \\ 5 \\ 3- \\ 4 \end{array}$ <input type="text"/>
$\begin{array}{r} 4 \\ 1- \\ 5 \\ 1- \end{array}$ <input type="text"/>	$\begin{array}{r} 5 \\ 1 \\ 2 \\ 1 \end{array}$ <input type="text"/>	$\begin{array}{r} 3 \\ 5 \\ 3- \\ 4 \end{array}$ <input type="text"/>	$\begin{array}{r} 1 \\ 5 \\ 1 \\ 2- \end{array}$ <input type="text"/>	$\begin{array}{r} 3 \\ 5 \\ 1- \\ 2- \end{array}$ <input type="text"/>	$\begin{array}{r} 1 \\ 5 \\ 1- \\ 4 \end{array}$ <input type="text"/>
$\begin{array}{r} 9 \\ 2- \\ 1 \\ 3- \end{array}$ <input type="text"/>	$\begin{array}{r} 1 \\ 5 \\ 1 \\ 5- \end{array}$ <input type="text"/>	$\begin{array}{r} 9 \\ 3- \\ 5- \\ 1 \end{array}$ <input type="text"/>	$\begin{array}{r} 4 \\ 3- \\ 1 \\ 1 \end{array}$ <input type="text"/>	$\begin{array}{r} 1 \\ 5 \\ 3 \\ 2- \end{array}$ <input type="text"/>	$\begin{array}{r} 3 \\ 2- \\ 3 \\ 2- \end{array}$ <input type="text"/>





## المستوى الأول (Juniors)

٢٠ | ..... | .....

التاريخ:

اليوم:

الوقت:

عدد المسائل:



### الآن يتم تدريب العبقرى على التخيل

أوجد ناتج المسائل الآتية بدون استخدام المعداد (بالتخيل):

٢ ٥ ٧-	٨ ١- ٢	٥ ١ ٦-	٧ ٢ ٤-	٦ ١- ٢	٩ ٢- ٢-	٩ ٤- ١
<input type="text"/>	<input type="text"/>	<input type="text"/>	<input type="text"/>	<input type="text"/>	<input type="text"/>	<input type="text"/>

٨ ٥- ١	٦ ٣ ٥-	٧ ١ ١	٩ ١- ١-	٦ ٣ ٢-	٦ ٣ ٥-	٩ ٢- ١-
<input type="text"/>	<input type="text"/>	<input type="text"/>	<input type="text"/>	<input type="text"/>	<input type="text"/>	<input type="text"/>

٩ ١- ٣-	٥ ٣ ٨-	٦ ١ ٥-	٧ ٢- ٤	٨ ٣- ١	٧ ١ ٥-	٦ ٣ ٢-
<input type="text"/>	<input type="text"/>	<input type="text"/>	<input type="text"/>	<input type="text"/>	<input type="text"/>	<input type="text"/>

٣ ٥ ١	٨ ١ ٣-	٧ ٢ ١-	٧ ١ ٣-	٣ ١ ٢-	٩ ٢- ١	٣ ٥ ٨-
<input type="text"/>	<input type="text"/>	<input type="text"/>	<input type="text"/>	<input type="text"/>	<input type="text"/>	<input type="text"/>





التاريخ: ٢٠ / /

اليوم:

الوقت:

عدد المسائل:

## هيا يا عبقرى

أوجد ناتج المسائل الآتية على المعداد:

١ ٥ ١- ٤ <input type="text"/>	٢ ٥ ١- ٢ <input type="text"/>	١ ٨ ١- ١- <input type="text"/>	١ ٣ ٤- ٢ <input type="text"/>	١ ٣ ٢- ٦ <input type="text"/>	١ ٣ ٥ ٦- <input type="text"/>	٤ ١- ٣- ٧ <input type="text"/>
٩ ٢- ٧- ١ <input type="text"/>	٨ ٣- ٤ ٩- <input type="text"/>	٦ ١ ٢ ١- <input type="text"/>	٢ ٥ ٦- ١ <input type="text"/>	٢ ١ ٦ ٣- <input type="text"/>	٣ ١ ١- ٥ <input type="text"/>	٣ ٢- ٨ ٥- <input type="text"/>
٥ ٢ ١- ٢ <input type="text"/>	٥ ١ ٥- ٣ <input type="text"/>	٨ ٢- ٣ ٥- <input type="text"/>	٧ ١- ٥- ٨ <input type="text"/>	٦ ٥- ١- ٢ <input type="text"/>	٨ ١- ١- ١- <input type="text"/>	٣ ٦ ٧- ١- <input type="text"/>
٧ ٢ ٣- ٦- <input type="text"/>	٩ ٨- ٦ ٢- <input type="text"/>	٩ ٤- ٣ ٢- <input type="text"/>	٦ ١- ٥- ٨ <input type="text"/>	١ ٣ ٤- ٦ <input type="text"/>	٣ ٢- ٥ ١ <input type="text"/>	٢ ٦ ٧- ٣ <input type="text"/>







## المستوى الأول (Juniors)



٢٠ | ..... | .....

التاريخ:

اليوم:

الوقت:

عدد المسائل:

### هيا يا عبقرى

أوجد ناتج المسائل الآتية بدون استخدام المعداد (بالتخيل):

٧ ٢ ١-	٦ ١ ٢-	٩ ١- ١-	٢ ٢ ٣-	٥ ٢ ٦-	٦ ١- ٣	٦ ١ ٢-
<input type="text"/>	<input type="text"/>	<input type="text"/>	<input type="text"/>	<input type="text"/>	<input type="text"/>	<input type="text"/>

٨ ٢- ١	٥ ٤ ٣-	٣ ٢- ٦	٧ ٦- ٣	٢ ٥ ١-	٨ ٣- ٢	٧ ٢ ٧-
<input type="text"/>	<input type="text"/>	<input type="text"/>	<input type="text"/>	<input type="text"/>	<input type="text"/>	<input type="text"/>

٩ ٧- ٢	٦ ١ ٥-	٧ ٥- ١	٨ ١ ٥-	٩ ٦- ١	٧ ٢ ٥-	٣ ٦ ٥-
<input type="text"/>	<input type="text"/>	<input type="text"/>	<input type="text"/>	<input type="text"/>	<input type="text"/>	<input type="text"/>

١ ٨ ٤-	٢ ٦ ٥-	١ ٧ ٣-	٣ ٦ ٤-	٨ ٦- ٢	٣ ٥ ٧-	٢ ٦ ٨-
<input type="text"/>	<input type="text"/>	<input type="text"/>	<input type="text"/>	<input type="text"/>	<input type="text"/>	<input type="text"/>





التاريخ: ٢٠ / ..... / .....

اليوم: .....

الوقت: .....

عدد المسائل: .....

## هيا يا عبقرى

أوجد ناتج المسائل الآتية على المعداد:

٤ ١- ٥ ١ <input type="text"/>	٤ ٤- ٣ ٦ <input type="text"/>	٤ ٢- ٧ ٥- <input type="text"/>	٤ ٢- ١- ٦ <input type="text"/>	٣ ٥ ٦- ٥ <input type="text"/>	٣ ٦ ١- ٢- <input type="text"/>	٥ ٢ ٢ ١- <input type="text"/>
٤ ٥ ٦- ٣- <input type="text"/>	١ ٨ ٢- ٧- <input type="text"/>	٩ ١- ٨- ٣ <input type="text"/>	٣ ٦ ٥- ٤- <input type="text"/>	٢ ٧ ٤- ٥- <input type="text"/>	٩ ٢- ١- ٣ <input type="text"/>	٩ ٥- ٣- ١- <input type="text"/>
٨ ٧- ٦ ١- <input type="text"/>	٢ ١ ٥ ٨- <input type="text"/>	٦ ١ ٧- ٦ <input type="text"/>	٨ ١ ٧- ٢- <input type="text"/>	١ ١ ٢- ٨ <input type="text"/>	٤ ٣- ٦ ١ <input type="text"/>	١ ٢ ٦ ٩- <input type="text"/>
٣ ٦ ٩- ٤ <input type="text"/>	٣ ٦ ٥- ٢- <input type="text"/>	٢ ٢ ٣- ٥ <input type="text"/>	٤ ٣- ٢ ٥ <input type="text"/>	٤ ٣- ١- ٦ <input type="text"/>	٩ ٢- ٧- ٣ <input type="text"/>	٦ ١ ١ ٢- <input type="text"/>





## المستوى الأول (Juniors)

٢٠ | ..... | .....

التاريخ:

اليوم:

الوقت:

عدد المسائل:



### هيا يا عبقرى

أوجد ناتج المسائل الآتية بدون استخدام المعداد (بالتخيل):

٩ ٧- ١ <input type="text"/>	٧ ٥- ١ <input type="text"/>	٣ ٦ ٥- <input type="text"/>	٥ ٤ ٦- <input type="text"/>	٦ ٢ ١ <input type="text"/>	٨ ٥- ١ <input type="text"/>	٩ ٢- ٦- <input type="text"/>
٢ ٧ ٤- <input type="text"/>	٢ ٥ ٦- <input type="text"/>	٥ ٢ ٦- <input type="text"/>	٣ ٦ ٥- <input type="text"/>	٩ ٥- ٢- <input type="text"/>	٤ ٥ ٦- <input type="text"/>	٣ ٦ ٧- <input type="text"/>
٥ ٣ ٦- <input type="text"/>	٧ ٢ ٤- <input type="text"/>	٢ ٧ ٥- <input type="text"/>	٧ ٢ ٣- <input type="text"/>	٩ ٢- ١ <input type="text"/>	٧ ٦- ٣ <input type="text"/>	٨ ٦- ١- <input type="text"/>
٩ ٧- ٥ <input type="text"/>	٤ ٥ ٢- <input type="text"/>	٣ ١- ٦ <input type="text"/>	٧ ٥- ٢ <input type="text"/>	٦ ٣ ٦- <input type="text"/>	٨ ١ ٣- <input type="text"/>	٣ ٥ ٧- <input type="text"/>





التاريخ: ٢٠ / ..... / .....

اليوم: .....

الوقت: .....

عدد المسائل: .....

## هيا يا عبقرى

أوجد ناتج المسائل الآتية على المعداد:

٩ ٤- ١ ١ <input type="text"/>	٩ ١- ٦- ٢ <input type="text"/>	٦ ٣ ٢- ١- <input type="text"/>	٧ ٢- ٥- ٤ <input type="text"/>	٧ ٦- ٣ ٥ <input type="text"/>	٢ ٢ ٥ ٤- <input type="text"/>	٢ ٦ ٧- ١- <input type="text"/>
٣ ١ ٣- ٦ <input type="text"/>	٣ ١- ٧ ٥- <input type="text"/>	١ ٧ ٨- ٣ <input type="text"/>	٤ ٥ ٦- ٢- <input type="text"/>	٨ ٣- ٢ ٥- <input type="text"/>	٢ ١ ١- ٧ <input type="text"/>	٢ ١ ٣- ٤ <input type="text"/>
٧ ٦- ٣ ٢- <input type="text"/>	٦ ٣ ١- ١- <input type="text"/>	١ ٨ ٢- ١- <input type="text"/>	٢ ٦ ٣- ٤ <input type="text"/>	٦ ٥- ٣ ٢- <input type="text"/>	٥ ٤ ٧- ٢- <input type="text"/>	٥ ٤ ٧- ١- <input type="text"/>
٥ ١ ٦- ٤ <input type="text"/>	٥ ٣ ٢- ٣ <input type="text"/>	٤ ١- ٣- ٥ <input type="text"/>	٥ ٣ ٨- ١ <input type="text"/>	٨ ٣- ٢ ١ <input type="text"/>	٨ ٧- ٢ ٥ <input type="text"/>	٨ ١- ٢ ٣- <input type="text"/>





## المستوى الأول (Juniors)

٢٠ | ..... | .....

التاريخ:

اليوم:

الوقت:

عدد المسائل:



### هيا يا عبقرى

أوجد ناتج المسائل الآتية بدون استخدام المعداد (بالتخيل):

٢ ١ ٥ <input type="text"/>	١ ٥ ١ <input type="text"/>	٢ ٥ ٢ <input type="text"/>	٣ ١ ٥ <input type="text"/>	٥ ٢ ٢ <input type="text"/>	١ ١ ٥ <input type="text"/>	٢ ١ ١ <input type="text"/>
٥ ٢ ١ <input type="text"/>	٣ ٥ ١ <input type="text"/>	١ ٥ ٣ <input type="text"/>	٥ ١ ١ <input type="text"/>	١ ٢ ٥ <input type="text"/>	٢ ٥ ٢- <input type="text"/>	٥ ٤ ٢- <input type="text"/>
٩ ٢- ٢- <input type="text"/>	٢ ٥ ١ <input type="text"/>	٥ ١ ٢ <input type="text"/>	١ ٣ ٥ <input type="text"/>	٩ ١- ٥- <input type="text"/>	٥ ٢ ١- <input type="text"/>	٢ ٥ ١- <input type="text"/>
٩ ١- ٣- <input type="text"/>	٥ ٤ ٣- <input type="text"/>	٩ ١- ١- <input type="text"/>	٣ ٥ ٣- <input type="text"/>	٣ ٥ ١- <input type="text"/>	١ ٥ ١- <input type="text"/>	٣ ٥ ٢- <input type="text"/>







التاريخ: ٢٠ / ..... / .....

اليوم: .....

الوقت: .....

عدد المسائل: .....

## هيا يا عبقرى

أوجد ناتج المسائل الآتية على المعداد:

$\begin{array}{r} 5 \\ 2 \\ 7- \\ 7 \end{array}$ <input type="text"/>	$\begin{array}{r} 3 \\ 5 \\ 7- \\ 5 \end{array}$ <input type="text"/>	$\begin{array}{r} 7 \\ 5- \\ 2 \\ 1- \end{array}$ <input type="text"/>	$\begin{array}{r} 9 \\ 7- \\ 1 \\ 5 \end{array}$ <input type="text"/>	$\begin{array}{r} 3 \\ 1- \\ 6 \\ 2- \end{array}$ <input type="text"/>	$\begin{array}{r} 2 \\ 6 \\ 7- \\ 1 \end{array}$ <input type="text"/>	$\begin{array}{r} 2 \\ 7 \\ 9- \\ 3 \end{array}$ <input type="text"/>
$\begin{array}{r} 3 \\ 5 \\ 8- \\ 4 \end{array}$ <input type="text"/>	$\begin{array}{r} 7 \\ 1 \\ 3- \\ 4 \end{array}$ <input type="text"/>	$\begin{array}{r} 8 \\ 1- \\ 2 \\ 3- \end{array}$ <input type="text"/>	$\begin{array}{r} 9 \\ 1- \\ 5- \\ 6 \end{array}$ <input type="text"/>	$\begin{array}{r} 8 \\ 7- \\ 6 \\ 7- \end{array}$ <input type="text"/>	$\begin{array}{r} 7 \\ 5- \\ 1 \\ 2- \end{array}$ <input type="text"/>	$\begin{array}{r} 4 \\ 2- \\ 7 \\ 6- \end{array}$ <input type="text"/>
$\begin{array}{r} 3 \\ 1 \\ 4- \\ 9 \end{array}$ <input type="text"/>	$\begin{array}{r} 7 \\ 5- \\ 2 \\ 4- \end{array}$ <input type="text"/>	$\begin{array}{r} 9 \\ 1- \\ 1- \\ 2 \end{array}$ <input type="text"/>	$\begin{array}{r} 7 \\ 1- \\ 5- \\ 1 \end{array}$ <input type="text"/>	$\begin{array}{r} 7 \\ 5- \\ 1- \\ 3 \end{array}$ <input type="text"/>	$\begin{array}{r} 6 \\ 5- \\ 3 \\ 2- \end{array}$ <input type="text"/>	$\begin{array}{r} 9 \\ 2- \\ 5- \\ 1 \end{array}$ <input type="text"/>
$\begin{array}{r} 7 \\ 1 \\ 5- \\ 6 \end{array}$ <input type="text"/>	$\begin{array}{r} 9 \\ 1- \\ 1- \\ 6- \end{array}$ <input type="text"/>	$\begin{array}{r} 8 \\ 7- \\ 3 \\ 1- \end{array}$ <input type="text"/>	$\begin{array}{r} 7 \\ 1- \\ 5- \\ 2 \end{array}$ <input type="text"/>	$\begin{array}{r} 6 \\ 3 \\ 1- \\ 3- \end{array}$ <input type="text"/>	$\begin{array}{r} 6 \\ 2 \\ 3- \\ 1 \end{array}$ <input type="text"/>	$\begin{array}{r} 9 \\ 1- \\ 7- \\ 5 \end{array}$ <input type="text"/>





# المستوى الأول (Juniors)



٢٠ | ..... |

التاريخ:

اليوم:

الوقت:

عدد المسائل:

## هيا يا عبقرى

أوجد ناتج المسائل الآتية بدون استخدام المعداد (بالتخيل):

٤ ٢- ٥ <input type="text"/>	٥ ٢ ٢ <input type="text"/>	٥ ٣ ١ <input type="text"/>	٥ ١ ٢ <input type="text"/>	٦ ١- ٤ <input type="text"/>	٨ ٣- ٢ <input type="text"/>	١ ٢ ٥ <input type="text"/>
--------------------------------------	-------------------------------------	-------------------------------------	-------------------------------------	--------------------------------------	--------------------------------------	-------------------------------------

٢ ١- ٦ <input type="text"/>	٦ ١ ١ <input type="text"/>	٧ ٥- ١ <input type="text"/>	٦ ٣ ١- <input type="text"/>	٩ ٢- ٥- <input type="text"/>	٨ ١- ٢ <input type="text"/>	٣ ٢- ٥ <input type="text"/>
--------------------------------------	-------------------------------------	--------------------------------------	--------------------------------------	---------------------------------------	--------------------------------------	--------------------------------------

٤ ٥ ٩- <input type="text"/>	٨ ٦- ٢ <input type="text"/>	٧ ٢ ٤- <input type="text"/>	٥ ٢ ٦- <input type="text"/>	٨ ٥- ١ <input type="text"/>	٩ ٢- ١ <input type="text"/>	٦ ٢ ١ <input type="text"/>
--------------------------------------	--------------------------------------	--------------------------------------	--------------------------------------	--------------------------------------	--------------------------------------	-------------------------------------

٨ ١ ٣- <input type="text"/>	٦ ١ ١- <input type="text"/>	٧ ٢ ٨- <input type="text"/>	٦ ٣ ٢- <input type="text"/>	٩ ٧- ٥ <input type="text"/>	٥ ٣ ٦- <input type="text"/>	٤ ٥ ٧- <input type="text"/>
--------------------------------------	--------------------------------------	--------------------------------------	--------------------------------------	--------------------------------------	--------------------------------------	--------------------------------------





التاريخ: ٢٠ / ..... / .....

اليوم: .....

الوقت: .....

عدد المسائل: .....

## هيا يا عبقرى

أوجد ناتج المسائل الآتية على المعداد:

٢ ٢ ٢- ٥ <input type="text"/>	١ ٣ ٥ ٤- <input type="text"/>	٤ ٥ ٩- ٢ <input type="text"/>	١ ٣ ١- ٥ <input type="text"/>	٢ ٢ ٥ ٤- <input type="text"/>	٢ ١ ١ ٥ <input type="text"/>	٤ ٥ ٩- ٣ <input type="text"/>
٢ ٢ ٤- ٥ <input type="text"/>	٤ ٥ ٢- ١- <input type="text"/>	٣ ١ ٥ ٦- <input type="text"/>	١ ٢ ١ ٥ <input type="text"/>	٥ ١ ١ ٢- <input type="text"/>	٤ ٥ ٩- ٣ <input type="text"/>	٤ ٥ ٤- ٢ <input type="text"/>
٣ ١ ٥ ٤- <input type="text"/>	٢ ٢ ٥ ١- <input type="text"/>	٤ ٥ ١- ١ <input type="text"/>	٥ ١ ٢ ٥- <input type="text"/>	٩ ١- ١- ١- <input type="text"/>	٣ ٥ ١ ٦- <input type="text"/>	٩ ٢- ١- ٥- <input type="text"/>
٦ ١ ٢- ٣ <input type="text"/>	٤ ٥ ٩- ٢ <input type="text"/>	٥ ١ ٥- ٣ <input type="text"/>	٢ ١ ٦ ٥- <input type="text"/>	٢ ٧ ٦- ١ <input type="text"/>	٣ ٥ ١ ٧- <input type="text"/>	٦ ١ ٢ ٧- <input type="text"/>





## المستوى الأول (Juniors)



٢٠ | ..... | .....

التاريخ:

اليوم:

الوقت:

عدد المسائل:

### هيا يا عبقرى

أوجد ناتج المسائل الآتية بدون استخدام المعداد (بالتخيل):

١ ٧ ٨- ٣ <input type="text"/>	٧ ٦- ٣ ١- <input type="text"/>	٩ ٧- ١ ١ <input type="text"/>	٦ ٣ ٧- ١ <input type="text"/>	٢ ٧ ٤- ٢ <input type="text"/>	٨ ٣- ٤ ٢- <input type="text"/>	٢ ٥ ١- ١- <input type="text"/>
٩ ٥- ٢- ٥ <input type="text"/>	٩ ٧- ١ ٣- <input type="text"/>	٩ ٦- ١ ٢- <input type="text"/>	٩ ٦- ٥ ٢- <input type="text"/>	١ ٨ ٤- ٥- <input type="text"/>	٥ ٣ ١- ١- <input type="text"/>	٥ ١ ١ ١ <input type="text"/>
٢ ٥ ٢ ٩- <input type="text"/>	٦ ٣ ٢- ٢- <input type="text"/>	٣ ٥ ١- ٢- <input type="text"/>	٢ ٥ ٢- ٤ <input type="text"/>	٣ ١ ٥ ٥- <input type="text"/>	٨ ٥- ١ ٥ <input type="text"/>	٥ ٢ ٧- ٤ <input type="text"/>
٩ ١- ٥- ٦ <input type="text"/>	٢ ٥ ١- ٣ <input type="text"/>	٤ ٢- ٢- ٥ <input type="text"/>	٧ ٦- ٣ ٥ <input type="text"/>	٣ ٥ ٧- ٢ <input type="text"/>	٩ ٧- ١ ٣- <input type="text"/>	١ ٨ ٢- ٢- <input type="text"/>





التاريخ: ٢٠ / /

اليوم:

الوقت:

عدد المسائل:

## هيا يا عبقرى

أوجد ناتج المسائل الآتية على المعداد:

٩ ٦- ١ ٥ ٤- <input type="text"/>	٢ ٥ ٦- ١ ٥ <input type="text"/>	٧ ٦- ٨ ٦- ١ <input type="text"/>	٦ ٥- ٨ ٥- ٢- <input type="text"/>	٨ ١- ٦- ١ ٥ <input type="text"/>	١ ٨ ٩- ٢ ٢ <input type="text"/>	٧ ٢- ٤ ٥- ١- <input type="text"/>	٨ ١- ٧- ٤ ٥ <input type="text"/>	١ ٨ ٣- ١- ٥- <input type="text"/>	٤ ٥ ٧- ٢ ٥ <input type="text"/>
---	--	---	--	---	--	--	---	--	--

٢ ٥ ٢ ٦- ٢- <input type="text"/>	٧ ٦- ٥ ٦- ٢ <input type="text"/>	٦ ٢ ٨- ٣ ٥ <input type="text"/>	١ ١ ٧ ٣- ٢ <input type="text"/>	٩ ١- ١- ٢ ٦- <input type="text"/>	٢ ٧ ٢- ٦- ١ <input type="text"/>	٨ ٢- ٣ ٦- ١- <input type="text"/>	٣ ٦ ١- ٧- ٢ <input type="text"/>	٩ ١- ١- ٢ ٨- <input type="text"/>	٩ ٥- ٤- ١ ٦ <input type="text"/>
---	---	--	--	--	---	--	---	--	---

٢ ٦ ٧- ٣ ٢- <input type="text"/>	١ ٣ ٢- ٥ ٢ <input type="text"/>	٤ ٥ ٢- ٧- ٤ <input type="text"/>	٤ ١- ٣- ٧ ١ <input type="text"/>	٦ ١- ٤ ٢- ١ <input type="text"/>	٣ ٥ ٦- ١ ١ <input type="text"/>	٣ ٥ ١- ٢ ٤- <input type="text"/>	٨ ١- ٢ ٩- ٣ <input type="text"/>	٣ ٦ ٤- ٢ ٦- <input type="text"/>	٥ ١ ٣ ٤- ٥- <input type="text"/>
---	--	---	---	---	--	---	---	---	---







# المستوى الأول (Juniors)



٢٠ | ..... | .....

التاريخ:

اليوم:

الوقت:

عدد المسائل:

## هيا يا عبقرى

أوجد ناتج المسائل الآتية بدون استخدام المعداد (بالتخيل):

٦ ١ ٢- ٤	٩ ٢- ٥- ٦	٣ ٢- ٥ ١-	٣ ٦ ١- ٣-	٥ ٣ ١ ٤-	٢ ٢ ٥ ١-	٤ ٥ ٧- ١
٧ ٢- ١ ٢	٨ ٢- ١ ٢-	٨ ٣- ٢ ٢	١ ٦ ٢- ٣	٣ ٦ ٢- ٥-	٧ ١- ١- ٣	٩ ١- ٢- ٥-
٣ ٥ ١ ٤-	٤ ١- ١- ٥	٩ ٢- ١- ١-	٢ ٧ ٨- ٥	٦ ٣ ٧- ٢	٢ ١ ٦ ٥-	٧ ١- ١- ٣
٥ ١ ١ ٢-	٢ ٥ ١- ٥-	٦ ١ ١ ١	٧ ١ ٣- ٢	٦ ٢ ٥- ١	٢ ٧ ٥- ٢-	٧ ٢ ٩- ٣





التاريخ: ٢٠ / /

اليوم:

الوقت:

عدد المسائل:

## هيا يا عبقرى

أوجد ناتج المسائل الآتية على المعداد:

٤	٤	٩	٢	٦	٣	٧	٥	٦	٤
٥	٣-	٧-	١	١	١-	٥-	٣	٣	٥
٦-	٧	٢	١	٧-	٢-	٢	٨-	٥-	١-
٥	٢-	٥	٣-	٢	٤	٥	٢	٢-	٢-
٢-	٥-	٣-	٦	٥	٥	١-	٧	٦	١
<input type="text"/>	<input type="text"/>	<input type="text"/>	<input type="text"/>	<input type="text"/>	<input type="text"/>	<input type="text"/>	<input type="text"/>	<input type="text"/>	<input type="text"/>

٩	٢	٤	٢	٤	٦	٢	٧	٣	٨
٢-	٢	٥	٦	٥	١	١	٦-	٦	١
٥-	٣-	٢-	١	٢-	٢	٦	٨	٧-	٣-
٦	٦	١-	٣-	٢-	٤-	٧-	٧-	١-	٦-
١	٢-	٦-	٦-	١	٥-	٥	٢	٢	٥
<input type="text"/>	<input type="text"/>	<input type="text"/>	<input type="text"/>	<input type="text"/>	<input type="text"/>	<input type="text"/>	<input type="text"/>	<input type="text"/>	<input type="text"/>

٦	٨	٦	٢	٧	٩	١	١	٢	٥
٢	٣-	٣	٥	١	٢-	١	٨	٦	٤
١	٤	٢-	٧-	١	١-	٦	٦-	٥-	٥-
٣-	٥-	١-	٤	٤-	٥-	٣-	٣-	٢-	٢-
١	١-	٣	٢-	٢	٣	٢	٦	٦	١
<input type="text"/>	<input type="text"/>	<input type="text"/>	<input type="text"/>	<input type="text"/>	<input type="text"/>	<input type="text"/>	<input type="text"/>	<input type="text"/>	<input type="text"/>





# المستوى الأول (Juniors)



٢٠ | ..... | .....

التاريخ:

اليوم:

الوقت:

عدد المسائل:

## هيا يا عبقرى

أوجد ناتج المسائل الآتية بدون استخدام المعداد (بالتخيل):

٩ ٧- ٢ ٤-	٢ ٥ ٢ ٤-	٧ ٢ ٣- ١-	٥ ١ ١ ٢	٩ ٢- ١- ٥-	٧ ٢ ١- ٥-	٩ ٣- ١- ١
--------------------	-------------------	--------------------	------------------	---------------------	--------------------	--------------------

٢ ٧ ١- ١-	٧ ٢ ٣- ٥-	٩ ٢- ١- ٣	٥ ٢ ٢ ٣-	٧ ٢ ٣- ٥-	٦ ٣ ١- ١-	٣ ١ ٥ ٩-
--------------------	--------------------	--------------------	-------------------	--------------------	--------------------	-------------------

٦ ٢ ٣- ١	٣ ١ ٥ ٩-	٩ ١- ٣- ٤	٦ ١- ٣ ٢-	٧ ٢- ٣ ٨-	٩ ٢- ٥- ١	١ ١ ٥ ٢
-------------------	-------------------	--------------------	--------------------	--------------------	--------------------	------------------

٨ ١ ٢- ١-	٣ ١ ٥ ٢-	٢ ٥ ١ ٧-	٧ ٢- ٣ ٨-	٧ ١- ٣ ٧-	٧ ١- ٣ ٢-	٩ ٧- ٢ ٣-
--------------------	-------------------	-------------------	--------------------	--------------------	--------------------	--------------------





التاريخ: ٢٠ / /

اليوم: .....

الوقت: .....

عدد المسائل: .....

## هيا يا عبقرى

أوجد ناتج المسائل الآتية على المعداد:

٣ ١ ٤- ٧ ٢- <input type="text"/>	٨ ٣- ٤ ٥- ١- <input type="text"/>	٤ ٥ ٢- ١- ٦- <input type="text"/>	٩ ٧- ٢ ٣- ٥ <input type="text"/>	٦ ٢ ١ ٣- ١ <input type="text"/>	٨ ١ ٣- ٦- ٥ <input type="text"/>	٤ ١- ٣- ٧ ١ <input type="text"/>	٣ ٦ ٧- ١- ٢ <input type="text"/>	٤ ٥ ٢- ٧- ٤ <input type="text"/>	٩ ١- ١- ٢ ٦- <input type="text"/>
---	--	--	---	--	---	---	---	---	--

٨ ٣- ٢ ١ ١ <input type="text"/>	١ ١ ٧ ٣- ٢ <input type="text"/>	٦ ٢ ٨- ٣ ٥ <input type="text"/>	٩ ٤- ٣ ١ ٥- <input type="text"/>	١ ٨ ٣- ١- ٥- <input type="text"/>	٢ ٧ ٢- ٦- ١ <input type="text"/>	١ ٣ ٢- ٥ ٢ <input type="text"/>	٨ ٢- ٣ ٦- ١- <input type="text"/>	٨ ١- ٧- ٤ ٥ <input type="text"/>	٨ ٥- ٦ ١- ٨- <input type="text"/>
--	--	--	---	--	---	--	--	---	--

٢ ١ ٣- ٨ ٥- <input type="text"/>	٢ ٦ ٧- ٣ ٢- <input type="text"/>	١ ١ ٦ ١ ٩- <input type="text"/>	٧ ٢- ٤ ٥- ١- <input type="text"/>	٩ ١- ١- ٢ ٨- <input type="text"/>	٦ ٣ ٢- ١- ٣ <input type="text"/>	٢ ٥ ٧- ٤ ٢- <input type="text"/>	٢ ٦ ١ ٣- ٦- <input type="text"/>	٣ ٦ ١- ٧- ٢ <input type="text"/>	٤ ٢- ٦ ١- ٢ <input type="text"/>
---	---	--	--	--	---	---	---	---	---





# المستوى الأول (Juniors)



٢٠ | ..... | .....

التاريخ:

اليوم:

الوقت:

عدد المسائل:

## هيا يا عبقرى

أوجد ناتج المسائل الآتية بدون استخدام المعداد (بالتخيل):

٦ ٣ ٥- ٢-	٢ ٥ ٦- ٨	٨ ٣- ٤ ٣-	٦ ٣ ٤- ١	٦ ١ ٢- ٣	٦ ٣ ١- ١-	٣ ١ ٥ ٩-
٥ ٢ ٢ ٣-	٩ ٧- ١ ١	٤ ٥ ٩- ٥	٦ ٢ ١ ٤-	٩ ٤- ٣ ٢-	٩ ٢- ٥- ١	١ ١ ٥ ٢
٢ ٧ ١- ١-	٢ ٧ ٤- ٣	٣ ٦ ٢- ١-	١ ٧ ١ ٤-	٧ ١ ١ ٣-	٧ ١- ٣ ٢-	٩ ٧- ٢ ٣-
١ ٥ ١- ٣	٧ ١ ١ ٤-	٢ ٧ ١- ١-	٢ ٧ ٤- ٢	٩ ٢- ١- ٣	٧ ١ ٣- ٤	٦ ٢ ١- ١-







التاريخ: ٢٠ / ..... / .....

اليوم: .....

الوقت: .....

عدد المسائل: .....

## هيا يا عبقرى

أوجد ناتج المسائل الآتية على المعداد:

٩ ٢- ٥- ٦ ١ <input type="text"/>	٧ ٥- ٢ ٥ ١- <input type="text"/>	٧ ٦- ٥ ٦- ٤ <input type="text"/>	٥ ٣ ٨- ٢ ٧ <input type="text"/>	٦ ٣ ٥- ٢- ٦ <input type="text"/>	٧ ١ ١ ٤- ٢ <input type="text"/>	٦ ١- ٤ ٢- ١ <input type="text"/>	٣ ٥ ٦- ١ ١ <input type="text"/>	٤ ٥ ٦- ٥ ٢- <input type="text"/>	٢ ٢ ٣- ٦ ٢- <input type="text"/>
---	---	---	--	---	--	---	--	---	---

٥ ٢ ٢ ٣- ١ <input type="text"/>	٤ ٥ ١- ١- ١ <input type="text"/>	٢ ١ ٦ ٧- ٥ <input type="text"/>	٩ ٧- ٢ ٥ ٣- <input type="text"/>	٧ ٦- ٨ ٧- ٢ <input type="text"/>	١ ١ ٦ ٣- ٢ <input type="text"/>	٩ ٢- ١- ٥- ٣ <input type="text"/>	٤ ٥ ٢- ٢- ١ <input type="text"/>	٥ ٤ ٥- ٢- ١ <input type="text"/>	٦ ١ ٢ ٤- ٥- <input type="text"/>
--	---	--	---	---	--	--	---	---	---

٣ ٥ ١- ٢ ٤- <input type="text"/>	٨ ١- ٢ ٩- ٣ <input type="text"/>	٣ ١- ٢- ٤ ٥ <input type="text"/>	٤ ٣- ٧ ٢- ٥- <input type="text"/>	٢ ٦ ٥- ٢- ٦ <input type="text"/>	٢ ١ ١ ٣- ٦ <input type="text"/>	٣ ٦ ٤- ٢ ٦- <input type="text"/>	٦ ١ ٧- ٢ ٥ <input type="text"/>	١ ٨ ٦- ٣- ٦ <input type="text"/>	٥ ١ ٣ ٤- ٥- <input type="text"/>
---	---	---	--	---	--	---	--	---	---





## المستوى الأول (Juniors)



٢٠ | ..... | .....

التاريخ:

اليوم:

الوقت:

عدد المسائل:

### هيا يا عبقرى

أوجد ناتج المسائل الآتية بدون استخدام المعداد (بالتخيل):

٧ ١- ١- ٤	٩ ٢- ١- ٣	٩ ٢- ٢- ٥-	٦ ٣ ٢- ١-	٧ ٢- ٤ ١-	٣ ٥ ١- ٢-	٩ ٢- ١ ٣-
١ ١ ٢- ٩	٣ ٥ ١ ٤-	٢ ٧ ١- ٦-	٦ ٣ ٢- ١-	٤ ٥ ٩- ٢	٧ ٢- ٣ ٢-	٤ ٣- ٦ ٢-
٦ ٢ ٥- ١	٨ ١ ٣- ٦-	٣ ٦ ١- ١-	٥ ٣ ٢- ٣	٦ ٣ ٦- ١	٨ ٣- ٤ ٧-	٤ ٥ ٧- ٢
٩ ٧- ١ ١	٦ ٢ ٥- ١	٥ ١ ٣ ٧-	٨ ١ ٧- ٢	٣ ٥ ١ ٥-	٢ ٥ ١ ٣-	٤ ٢- ١- ٣





التاريخ: ٢٠ / /

اليوم: .....

الوقت: .....

عدد المسائل: .....

## هيا يا عبقرى

أوجد ناتج المسائل الآتية على المعداد:

٧ ٢ ٣- ١- ٥- <input type="text"/>	٢ ٧ ٤- ٣ ٥- <input type="text"/>	٦ ٣ ٥- ٢- ٦ <input type="text"/>	٧ ١ ١ ٣- ٢ <input type="text"/>	٢ ٥ ٦- ٨ ٥- <input type="text"/>	٩ ٢- ٧- ٣ ١ <input type="text"/>	٦ ٢ ١ ٤- ٣ <input type="text"/>	٧ ٢ ٣- ٥- ٧ <input type="text"/>	٦ ٣ ٤- ١ ١ <input type="text"/>	٤ ٥ ٩- ٥ ٢ <input type="text"/>
--	---	---	--	---	---	--	---	--	--

٩ ٢- ١- ٥- ٣ <input type="text"/>	٣ ٥ ٨- ٢ ٢ <input type="text"/>	٣ ٦ ٢- ١- ٣ <input type="text"/>	٦ ٣ ١- ١- ٢- <input type="text"/>	٥ ٢ ٢ ٣- ١ <input type="text"/>	٧ ٢- ٢ ٣- ١ <input type="text"/>	٢ ٥ ٢ ٤- ١ <input type="text"/>	١ ١ ٧ ٢- ١- <input type="text"/>	٦ ٣ ١- ١- ٢ <input type="text"/>	٥ ١ ١ ٢ ١- <input type="text"/>
--	--	---	--	--	---	--	---	---	--

٩ ٧- ١ ١ ٣- <input type="text"/>	٦ ١ ٢- ٣ ١- <input type="text"/>	٣ ١ ٥ ٩- ٢ <input type="text"/>	٩ ٧- ٢ ٤- ١ <input type="text"/>	١ ٧ ١ ٤- ٢ <input type="text"/>	٩ ٤- ٣ ٢- ٣ <input type="text"/>	٨ ٣- ٤ ٣- ٢ <input type="text"/>	٩ ٢- ١- ٣ ٢- <input type="text"/>	٧ ٢ ١- ٥- ٦ <input type="text"/>	٢ ٧ ١- ١- ٢ <input type="text"/>
---	---	--	---	--	---	---	--	---	---





## المستوى الأول (Juniors)



٢٠ | ..... | .....

التاريخ:

اليوم:

الوقت:

عدد المسائل:

### هيا يا عبقرى

أوجد ناتج المسائل الآتية بدون استخدام المعداد (بالتخيل):

٤ ٥ ٦- ٢-	٢ ٧ ١- ٦-	٦ ٣ ٢- ١-	٦ ١ ١ ١	١ ٨ ٢- ٢-	٤ ٥ ٢- ٢-	١ ١ ٥ ٢-
٦ ٢ ٣- ١	٨ ١ ٣- ٦-	٣ ٦ ١- ١-	١ ٥ ٦- ٢	٥ ٢ ٢ ٣-	٧ ٦- ٨ ٧-	٩ ٦- ٥ ٦-
٩ ٥- ٤- ١	٦ ٢ ٥- ١	٥ ١ ٣ ٧-	٩ ٧- ٢ ٥	٢ ١- ٣ ٥	٢ ١- ٨ ٣-	٩ ٧- ٢ ٥
٨ ١ ٣- ٦-	٦ ٣ ٧- ٢	١ ٥ ٣ ٤-	٥ ٣ ٧- ٨	٥ ٤ ١- ١-	٢ ٥ ١ ٨-	٩ ٧- ١ ١





التاريخ: ٢٠ / /

اليوم:

الوقت:

عدد المسائل:

## هيا يا عبقرى

أوجد ناتج المسائل الآتية على المعداد:

٧ ١- ٣ ١- ٥- <input type="text"/>	٩ ٢- ٥- ١ ١ <input type="text"/>	٣ ٦ ١- ١- ٢ <input type="text"/>	٣ ١ ٥ ٢- ٢- <input type="text"/>	٦ ٢ ٣- ١ ١ <input type="text"/>	٢ ٧ ١- ١- ٥- <input type="text"/>	٣ ٦ ١- ٥- ٦ <input type="text"/>	٢ ٧ ١- ١- ٢ <input type="text"/>	٩ ١- ٣- ٤ ٢- <input type="text"/>	٣ ٦ ١- ١- ٢ <input type="text"/>
--	---	---	---	--	--	---	---	--	---

١ ٥ ١- ٣ ١- <input type="text"/>	٣ ٦ ٢- ٥- ٦ <input type="text"/>	٦ ١- ٥- ٢ ٢ <input type="text"/>	٨ ١ ٢- ١- ٣ <input type="text"/>	٧ ٢- ٣ ٨- ٩ <input type="text"/>	٢ ٧ ١- ١- ٢ <input type="text"/>	٣ ٦ ١- ١- ٢ <input type="text"/>	٩ ٧- ٢ ٣- ١ <input type="text"/>	٨ ٦- ٢ ٣- ٦ <input type="text"/>	٧ ١- ٣ ٢- ٢- <input type="text"/>
---	---	---	---	---	---	---	---	---	--

٩ ٢- ١- ٣ ٢- <input type="text"/>	٨ ٣- ٤ ١- ١- <input type="text"/>	٦ ١- ٣ ٢- ٣ <input type="text"/>	٧ ٢- ٣ ٨- ٢ <input type="text"/>	٢ ١ ١ ٥ ٢- <input type="text"/>	١ ١ ٥ ٢- ١ <input type="text"/>	٢ ٥ ١ ٧- ١ <input type="text"/>	٧ ١ ١ ٤- ٢ <input type="text"/>	٢ ١ ٦ ٨- ١ <input type="text"/>	٣ ١ ٥ ٩- ٢ <input type="text"/>
--	--	---	---	--	--	--	--	--	--





# المستوى الأول (Juniors)



٢٠ | ..... | .....

التاريخ:

اليوم:

الوقت:

عدد المسائل:

## هيا يا عبقرى

أوجد ناتج المسائل الآتية بدون استخدام المعداد (بالتخيل):

١ ٥ ٣ ٤-	٣ ٦ ٢- ٥-	٩ ٦- ٥ ٧-	٦ ٥- ٣ ٢-	٦ ٢ ١ ٤-	٨ ٢- ٣ ٧-	٩ ٧- ١- ٦
٥ ٢ ٦- ٢	٩ ٧- ٦ ٥-	١ ٧ ٣- ٤	٢ ١ ٥ ١	٨ ٦- ٢ ٥	٣ ٥ ٧- ٦	٣ ٦ ٧- ٢
٨ ١ ٣- ٥-	٧ ١ ١ ٨-	٩ ١- ١- ٦-	٥ ٤ ١- ٧-	٨ ١ ٨- ٧	٧ ٢- ٤ ٧-	٦ ١- ٤ ٦-
١ ٧ ٢- ٣	٩ ٧- ٢ ٥	٥ ٢ ١- ٣	١ ٨ ٢- ١-	٦ ٢ ٥- ٦	٧ ٢ ٤- ٣	٢ ٥ ٢ ٦-







التاريخ: ٢٠ / ..... / .....

اليوم: .....

الوقت: .....

عدد المسائل: .....

## هيا يا عبقرى

أوجد ناتج المسائل الآتية على المعداد:

٢ ٧ ١- ٦- ٥	٦ ٢ ١- ١- ٣	٣ ٥ ١- ٢- ٣	٧ ١- ١- ٤ ٢-	٦ ٢ ٣- ١ ١	٤ ٢- ١- ٣ ٥	٣ ٥ ١ ٤- ١	٦ ٣ ٢- ١- ٣	٧ ٢ ٤- ١ ١	٩ ٢- ١ ٣- ٢
<input type="text"/>	<input type="text"/>	<input type="text"/>	<input type="text"/>	<input type="text"/>	<input type="text"/>	<input type="text"/>	<input type="text"/>	<input type="text"/>	<input type="text"/>

٢ ٥ ١ ٣- ٤	٦ ١ ١ ٣- ٢	٦ ٣ ٢- ١- ٥-	٧ ١ ٣- ٤ ٩-	٦ ٣ ٢- ١- ٣	١ ١ ٢- ٩ ٢-	٩ ٢- ١- ٣ ٢-	١ ١ ٥ ٢- ٤	٤ ١- ١- ٢ ٤-	٢ ٥ ١- ٦- ٤
<input type="text"/>	<input type="text"/>	<input type="text"/>	<input type="text"/>	<input type="text"/>	<input type="text"/>	<input type="text"/>	<input type="text"/>	<input type="text"/>	<input type="text"/>

٨ ٢- ١ ٢- ٥-	٤ ٢- ١ ٣- ٥	٦ ٢ ٣- ٥- ١	٤ ٥ ٢- ٢- ٣	٦ ١ ١ ١ ٤-	٢ ٥ ٧- ١ ١	٥ ١ ٣ ٢- ٢-	٣ ٥ ١- ٧- ٢	١ ٥ ٣ ٤- ٢	٩ ٢- ١- ١- ٤
<input type="text"/>	<input type="text"/>	<input type="text"/>	<input type="text"/>	<input type="text"/>	<input type="text"/>	<input type="text"/>	<input type="text"/>	<input type="text"/>	<input type="text"/>





## المستوى الأول (Juniors)

٢٠ | ..... | .....

التاريخ:

اليوم:

الوقت:

عدد المسائل:



### هيا يا عبقرى

أوجد ناتج المسائل الآتية بدون استخدام المعداد (بالتخيل):

٩ ٤- ٢ ٥- <input type="text"/>	٣ ٦ ٩- ٥ <input type="text"/>	٧ ١ ٥- ١ <input type="text"/>	٥ ٢ ١ ٣- <input type="text"/>	٩ ٥- ١- ٣- <input type="text"/>	٤ ٥ ٢- ٢- <input type="text"/>	٦ ٢ ١- ٢- <input type="text"/>
٨ ٥- ١ ٢- <input type="text"/>	٧ ٦- ٨ ٥- <input type="text"/>	٣ ٥ ٢- ٣ <input type="text"/>	٨ ٥- ٦ ٢- <input type="text"/>	١ ٨ ٦- ٥ <input type="text"/>	٦ ٣ ٢- ٦- <input type="text"/>	٤ ٣- ٦ ٥- <input type="text"/>
٢ ٧ ٦- ٥ <input type="text"/>	٧ ٢ ٤- ٥- <input type="text"/>	٩ ٢- ٧- ٤ <input type="text"/>	٧ ٢- ٤ ٩- <input type="text"/>	٥ ٤ ٢- ٧- <input type="text"/>	٩ ٢- ١ ٨- <input type="text"/>	٤ ٣- ٥ ٦- <input type="text"/>
٢ ٥ ١ ٧- <input type="text"/>	٧ ٦- ٣ ٥ <input type="text"/>	٤ ٣- ٨ ٢- <input type="text"/>	٢ ٧ ٨- ٦ <input type="text"/>	٩ ٥- ٢- ٧ <input type="text"/>	٨ ٦- ٧ ٢- <input type="text"/>	٥ ٤ ٣- ٥- <input type="text"/>





التاريخ: ٢٠ / /

اليوم: .....

الوقت: .....

عدد المسائل: .....

## هيا يا عبقرى

أوجد ناتج المسائل الآتية على المعداد:

٤ ٣- ١ ١ ٥ <input type="text"/>	١ ٥ ٣ ١- ٥- <input type="text"/>	٦ ١ ٢ ٢- ٢- <input type="text"/>	٤ ١- ١- ٥ ٥- <input type="text"/>	١ ٥ ١ ٢- ١ <input type="text"/>	٤ ١- ٢- ١ ٥ <input type="text"/>	٢ ٥ ٢ ٥- ١- <input type="text"/>	٤ ٥ ٩- ٣ ١ <input type="text"/>	١ ٥ ٦- ٢ ٢ <input type="text"/>	٩ ٣- ٢ ٣- ٤ <input type="text"/>
--	---	---	--	--	---	---	--	--	---

٣ ٣- ٤ ٢- ٥ <input type="text"/>	٥ ٤ ٢- ١ ١ <input type="text"/>	٩ ١- ٣- ٤ ٢- <input type="text"/>	٢ ٥ ٢- ٤ ٢- <input type="text"/>	٣ ١ ٥ ٢- ٢- <input type="text"/>	١ ٥ ١ ٢ ٤- <input type="text"/>	٧ ٢- ١ ٥- ٣ <input type="text"/>	٣ ١- ٥ ١- ١- <input type="text"/>	٤ ٢- ١- ٥ ١- <input type="text"/>	٣ ٢- ٣ ٥ ٢- <input type="text"/>
---	--	--	---	---	--	---	--	--	---

٧ ١- ١- ٤ ١- <input type="text"/>	١ ١ ٢ ٤- ٣ <input type="text"/>	٤ ٣- ١ ٥ ٢- <input type="text"/>	٣ ١- ٢ ٤- ٥ <input type="text"/>	٢ ١ ١ ٥ ٩- <input type="text"/>	٩ ٤- ٢ ٥- ٢ <input type="text"/>	٤ ٥ ٢- ٢- ١ <input type="text"/>	٣ ١- ٢ ١- ٥ <input type="text"/>	٤ ١- ١- ١- ٥ <input type="text"/>	٩ ٥- ٣- ١ ١ <input type="text"/>
--	--	---	---	--	---	---	---	--	---





## المستوى الأول (Juniors)



٢٠ | ..... | .....

التاريخ:

اليوم:

الوقت:

عدد المسائل:

## اختبار المستوى الأول

أوجد ناتج المسائل الآتية بدون استخدام المعداد (بالتخيل):

٣ ٢- ٨ ٦-	٧ ٦- ٧ ٦-	٨ ٧- ٨ ٧-	٩ ٨- ١ ٦	٦ ٥- ٧ ٥-	٥ ٤ ٨- ٧	٥ ١ ٦- ٧
<input type="text"/>	<input type="text"/>	<input type="text"/>	<input type="text"/>	<input type="text"/>	<input type="text"/>	<input type="text"/>

٦ ٥- ٢ ٣-	٢ ٧ ٥- ١-	٨ ٥- ٦ ٥-	٦ ١ ٧- ٣	٥ ١ ٦- ٢	٢ ٧ ١- ٧-	١ ٧ ١- ٢-
<input type="text"/>	<input type="text"/>	<input type="text"/>	<input type="text"/>	<input type="text"/>	<input type="text"/>	<input type="text"/>

٨ ٣- ٢ ١-	٦ ٥- ٢ ١-	٢ ٥ ١- ٣	٦ ٣ ١- ١-	٧ ٦- ١ ٦	٦ ٥- ٣ ٥	٩ ٦- ١ ٣-
<input type="text"/>	<input type="text"/>	<input type="text"/>	<input type="text"/>	<input type="text"/>	<input type="text"/>	<input type="text"/>

٨ ٢- ٣ ٧-	٣ ٥ ١- ٥-	٢ ٦ ١- ٦-	٢ ٧ ١- ٥-	٤ ١- ٥ ١-	٣ ٢- ٦ ٢-	٢ ١- ٧ ١-
<input type="text"/>	<input type="text"/>	<input type="text"/>	<input type="text"/>	<input type="text"/>	<input type="text"/>	<input type="text"/>





التاريخ: ٢٠ / /

اليوم:

الوقت:

عدد المسائل:

## تابع اختبار المستوى الأول

أوجد ناتج المسائل الآتية على المعداد:

٢ ١- ٦ ١- ٥- <input type="text"/>	٨ ٥- ١ ٢- ١ <input type="text"/>	٣ ٦ ١- ٣- ٤ <input type="text"/>	٥ ١ ٦- ٢ ٢ <input type="text"/>	٢ ٧ ٩- ٣ ١- <input type="text"/>	٧ ٥- ١- ٢ ١ <input type="text"/>	٣ ٥ ٧- ١ ٥ <input type="text"/>	٧ ٥- ٢ ١- ٦ <input type="text"/>	١ ٨ ٤- ١ ٢ <input type="text"/>	٣ ٢- ٥ ١- ٢ <input type="text"/>
--	---	---	--	---	---	--	---	--	---

٩ ٢- ٥- ٦ ٥- <input type="text"/>	٣ ٥ ١- ٢ ٢- <input type="text"/>	٢ ٧ ٥- ١- ٦ <input type="text"/>	٥ ٤ ١- ٣- ٢ <input type="text"/>	٧ ٢- ٤ ٦- ٥ <input type="text"/>	٤ ٣- ٥ ١- ٢ <input type="text"/>	٩ ٢- ١ ٥- ٢- <input type="text"/>	٥ ٢ ٥- ١- ٢ <input type="text"/>	٢ ٧ ٦- ١ ٥ <input type="text"/>	٧ ٢- ٤ ٣- ١ <input type="text"/>
--	---	---	---	---	---	--	---	--	---

٩ ١- ٥- ٦ ٧- <input type="text"/>	٣ ٥ ٧- ١ ٢ <input type="text"/>	٦ ١ ٢- ٤ ٢- <input type="text"/>	٨ ٣- ٢ ١- ١- <input type="text"/>	٥ ٣ ٢- ١ ١ <input type="text"/>	٢ ٢ ٣- ٥ ١- <input type="text"/>	٩ ١- ٧- ٢ ٥ <input type="text"/>	٢ ٥ ١- ٣ ١- <input type="text"/>	١ ٥ ٦- ٢ ١- <input type="text"/>	٩ ٤- ١ ٥- ٢ <input type="text"/>
--	--	---	--	--	---	---	---	---	---





## تقييم الطفل في المستوى الأول

تقييم السرعة

تقييم الأداء

الأسئلة

الأسئلة السمعية على المعداد

الأسئلة المكتوبة على المعداد

الأسئلة المشاهدة على المعداد

الأسئلة السمعية بدون المعداد

الأسئلة المكتوبة بدون المعداد

الأسئلة المشاهدة بدون المعداد

